

الدورة الرئيسية 2025	امتحان البكالوريا	الجمهورية التونسية وزارة التربية
الشعبة: الآداب	الاختبار: التاريخ والجغرافيا	
ضارب الاختبار: 3	الحمصة: 3 س	

رقم التسجيل

على المترشح أن يستعمل في تحريره ورقتين منفصلتين إحداهما خاصة بالتاريخ والأخرى خاصة بالجغرافيا

التاريخ (20 نقطة)

يختار المترشح أحد الموضوعين التاليين

الموضوع الأول: مقال

ساهمت الظرفية العالمية الجديدة الناتجة عن الحرب العالمية الأولى في انتعاش النضال السياسي في تونس ضد الاستعمار الفرنسي.

- وضّح هذه الظرفية العالمية الجديدة.
- أبرز مظاهر انتعاش النضال السياسي في تونس إلى حدود 1923.

مقياس إسناد الأعداد: المعلومات: 14 نقطة / المنهجية: 4 نقاط / اللغة: نقطتان

الموضوع الثاني: دراسة نص

القضية الفلسطينية

TUNISIE

سيدي الرئيس،

"...ترجع جذور المشكلة الفلسطينية إلى أواخر القرن التاسع عشر... حيث بدأ التخطيط الصهيوني- الاستعماري لغزو أرض فلسطين بمهاجرين من يهود أوروبا... وهكذا باشرت الحركة الصهيونية متحالفة مع الاستعمار العالمي غزوها لبلادنا... ونجحت في الحصول على تصريح بلفور من بريطانيا، فجسّد التصريح حقيقة التحالف الصهيوني- الاستعماري... حيث أعطت بريطانيا، وهي لا تملك، وعدا للحركة الصهيونية. وهي لا تستحق، وخذلت [جمعية] الأمم بتركيبها القديم شعبنا العربي... وفرضت علينا قسراً الاستعمار البريطاني بصورة الانتداب... وبفعل تواطؤ الدولة المنتدبة مع الحركة الصهيونية، ودعم الولايات المتحدة لهما، صدرت عن هذه الجمعية [الجمعية العامة لمنظمة الأمم المتحدة]... التوصية بتقسيم وطننا فلسطين في 29 نوفمبر 1947... وقد استطاع هذا الكيان الصهيوني وبدعم من دول الاستعمار والامبريالية، وعلى رأسها الولايات المتحدة

الأمريكية أن يتحامل على هيئة الأمم لقبوله في عضويتها... وقامت هذه الدولة العنصرية... بحربين توسعيتين كبيرتين عام 1956 و عام 1967... وكان من نتائج العدوان الصهيوني في جوان 1967 أن احتل العدو سيناء المصرية حتى مشارف السويس، واحتل الجولان السورية فضلا عن احتلاله للأرض الفلسطينية حتى نهر الأردن... فما كان أمام العرب وفي مقدمتها دولتا مصر وسوريا إلا أن تبذل الجهود المضنية في الاستعداد العسكري... من أجل تحرير تلك الأراضي واستعادة حقوق الشعب الفلسطيني... وضمن هذا الإطار اندلعت ... حرب تشرين [أكتوبر 1973]...

لقد قاوم شعبنا الفلسطيني خلال ثلاثين عاماً تحت الاحتلال البريطاني، والغزو الصهيوني، كل محاولات انتزاع أرضه، وناضل في ثورات... وعشرات الانتفاضات الشعبية... وعندما أقتلعت غالبية من الأرض الفلسطينية التي أحتلت عام 1948، ظلّ يقاوم... وحاول شعبنا بكل الطرق استمرار نضاله السياسي من أجل حقوقه... وعندما خابت آمال شعبنا بالأسرة الدولية... لجأ إلى الثورة الفلسطينية... وبنيت حركة التحرير الوطنية التي تضم كل فصائله وتنظيماته وقدراته والتي جسدها منظمة التحرير الفلسطينية...

إنني كرئيس لمنظمة التحرير الفلسطينية، وكقائد للثورة الفلسطينية أتوجه إليكم أن تقفوا مع نضال شعبنا من أجل تطبيق حقّه في تقرير مصيره... لقد جئكم يا سيادة الرئيس بغصن الزيتون مع بندقية نائر، فلا تُسقطوا الغصن الأخضر من يدي... سيادة الرئيس،...

الحرب تندلع من فلسطين و السلام يبدأ من فلسطين

من خطاب ياسر عرفات أمام الجمعية العامة للأمم المتحدة في 13 / 11 / 1974 .
مركز المعلومات الوطني الفلسطيني وفا، وثائق

أدرس النص معتمدا الأسئلة التالية *

- 1- حدّد الفكرة العامة للنص
- 2- عرّف ما يلي: ياسر عرفات - منظمة التحرير الفلسطينية.
- 3- مثل الأحداث التالية على سلم زمني (الملحق عدد 1): قرار تقسيم فلسطين (1947)، العدوان الثلاثي على مصر (1956)، حرب 1967، حرب 1973.
- 4 - وضّح جذور القضية الفلسطينية إلى سنة 1947.
- 5- أبرز مظاهر المقاومة الفلسطينية والعربية للمشروع الصهيوني إلى سنة 1974.

* تقع الإجابة عن كل سؤال على حدة، لا في شكل تحرير مستمر.

مقياس إسناد الأعداد: السؤال الأول: نقطة/ السؤال الثاني: نقطتان، السؤال الثالث: 3 نقاط /السؤال الرابع: 4 نقاط /السؤال الخامس: 4 نقاط. المنهجية: 04 نقاط، اللغة: نقطتان

الجغرافيا (20 نقطة)

يختار المترشح أحد الموضوعين التاليين

الموضوع الأول: مقال

- وظف الاتحاد الأوروبي قوته الإنتاجية الصناعية ليصبح قطبا تجاريا عالميا.
- أبرز مظاهر القوة التجارية العالمية للاتحاد الأوروبي.
 - بين دور الصناعة في بناء هذه القوة التجارية.

مقياس إسناد الأعداد: المعلومات: 14 نقطة / المنهجية: 04 نقاط / اللغة: نقطتان

الموضوع الثاني: إنجاز خريطة

الأسئلة:

(12 نقطة)

1- جثم على خريطة البرازيل (الملحق عدد 02) ما يلي:

- أسماء الحواضر البرازيلية وأصنافها.
- القباينات الإقليمية.

- الديناميات المجالية (أدفاق الهجرة الداخلية، جهات الزيادة، واجهات بحرية نشيطة، المثلث الصناعي).

2- أبرز المزايا الطبيعية المتاحة بالبرازيل الريادي ومجهودات الدولة للاستفادة من هذه المزايا. (03 نقاط)

3- بين محدودية حصيلة التنمية بالبرازيل الريادي. (03 نقاط)

اللغة: نقطتان

BACCALAURÉAT
LETTRES
TUNISIE

*تقع الإجابة عن كل سؤال على حدة لا في شكل تحرير مستمر

إمضاء المراقبين

السلسلة:

عدد الترميم:


الشعبة:

الاسم واللقب:

تاريخ الولادة ومكانها:



إمضاء المصححين	الملاحظات	العدد	
.....			
.....			



BACCALAURÉAT
LETTRES
TUNISIE

التاريخ والجغرافيا - شعبة الآداب - الدورة الرئيسية 2025 - الملق عدد 1 - (يرجع مع ورقة تحرير التاريخ)

إمضاء المراقبين

الشعبة: عدد الترسيم: السلسلة:


الاسم واللقب:

تاريخ الولادة ومكانها:

إمضاء المصححين

الملاحظة

العدد



التاريخ والجغرافيا - شعبة الآداب - الدورة الرئيسية (2025) - الملحق عدد 2 - (يرجع مع ورقة تحرير الجغرافيا)

المفتاح

الديناميات المجالية

التباينات الإقليمية

الحواضر

إمضاء المراقبين

السلسلة :

عدد الترسيم:

الشعبة:

الاسم واللقب:

تاريخ الولادة ومكانها:

إمضاء المصححين

الملاحظة

العدد

التاريخ

التاريخ و الصغر العليا - شعبية الآداب - دورة المر اقية 2025 - الملحق عدده 1 - (يرجع مع ورقة تحضير التاريخ)

BACCALAURÉAT
LETTRES
TUNISIE

امتحان البكالوريا ❀❀❀ دورة المراقبة 2025

الجمهورية التونسية
وزارة التربية

الشعبة: الآداب

الاختبار: التاريخ والجغرافيا

ضارب الاختبار: 3

الحصّة: 3 س

رقم التسجيل

على المترشح أن يستعمل في تحريره ورقتين منفصلتين إحداهما خاصة بالتاريخ والأخرى خاصة بالجغرافيا

التاريخ (20 نقطة)

يختار المترشح أحد الموضوعين التاليين

الموضوع الأول: مقال

- ساهمت مخرّفات الحرب العالميّة الأولى وأزمة الثلاثينات الاقتصاديّة في اندلاع حرب عالميّة ثانية أدت بدورها إلى نشأة نظام القطبيّة الثنائيّة.
- وضّح دور كلّ من مخرّفات الحرب العالميّة الأولى وأزمة الثلاثينات الاقتصاديّة في اندلاع الحرب العالميّة الثانية.
- أبرز نظام القطبيّة الثنائيّة الناجم عن هذه الحرب.

مقياس إسناد الأعداد: المعلومات: 14 نقطة / المبهجة: 4 نقاط / اللغة: نقطتان

الموضوع الثاني: دراسة وثائق

الحركة الوطنيّة التونسيّة في نهاية الثلاثينات

الوثيقة الأولى: مؤتمر نهج التّريبونال.

في الحقيقة ، بعد جولة السيّد فيانو في المملكة والالتزامات التي تعهد بها للتونسيين [خطاب 1 مارس 1937] ، توقع هؤلاء حصول بلادهم على الاستقلال في تاريخ قريب . ولكن بعد ذلك ، تمّت إقالة السيّد فيانو من الحكومة وسلكت هذه الأخيرة طريق القمع في الجزائر والمغرب... وأصبح مفروضا على الديوان السياسي للحزب الدستوري الجديد إعادة النظر في موقفه... فانعقد المؤتمر الوطني للحزب الدستوري الجديد في تونس من 30 أكتوبر إلى 02 نوفمبر 1937 . منذ البداية برز خلاف حادّ في صلب اللّجنة السياسيّة إثر التباين الشّديد بين اتجاهين مختلفين: الأوّل... مساند لسياسة تعاون مع الحكومة، والثاني... نادى بسياسة معارضة، يتفق معها قسم كبير من المؤتمرين. وإثر التّدخل القويّ للدكتور الماطري الذي صرّح بأنّه سيضطرّ إلى الاستقالة إذا كان التصويت في المؤتمر مخالفا لسياسة التعاون ، "الوحيدة المثمرة في هذه الظروف" ، فكان القرار التّهاني في صالح هذا الموقف... مع محافظة المؤتمر... على الثقة الممنوحة للمقيم العام ، أرمان قيون ، وسحبها من الحكومة الفرنسيّة الحاليّة... وفي خطاب اختتام المؤتمر، أكّد الحبيب بورقيبة عزم الحزب الدستوري الجديد على مواصلة الكفاح من أجل تحرير الشعب التونسي.

روحي كازماجور ، الحركة الوطنيّة بتونس ، ميديا كوم للنشر، تونس 2010 ، ص 109 - 110 .

الوثيقة الثانية: الوضع السياسي في تونس سنة 1938.

...وتسارعت الأحداث و بدأ القمع يخيم على تونس... وتم فصل علي البليوان من وظيفته كأستاذ بالصادقية. فتواصلت الاحتجاجات التلمذية في المعهد... و بعد القرارات الخطيرة المتخذة من طرف المجلس الممي للحزب في مارس 1938 والتي بقيت سرية، تقرر القيام بجولة دعائية كبرى عبر كامل البلاد التونسية لإعلام المناضلين والجماهير الشعبية باقتراب حملة القمع الاستعماري والاستعداد لمواجهةها.

سليمان بن سليمان ، ذكريات سياسية، نبرهانا للنشر، تونس، 2017، ص 91 - 95

الوثيقة الثالثة: رواية معمر فرنسي لأحداث 9 أبريل 1938.

...أما بخصوص أحداث مدينة تونس [9 أبريل 1938] فإنه لا يمكنني أن أعلمكم بأكثر مما أوردته الصحف بفرنسا التي تعد أفضل مصدر للأخبار. فهنا تمنع الرقابة تداول التفاصيل وكل رواية للأحداث لا تخدم مصلحة المقيم العام. لكن ما يمكن أن أؤكد لكم هو أن عدد القتلى والجرحى الذي أوردته الصحف بفرنسا هو أقل بكثير من العدد المعلن عنه رسميًا... وهنا⁽¹⁾ وقع تخريب خطوط الهاتف... وفي مناطق أخرى نائية مثل منطقتنا شعرنا بتطور واضح في عقلية عمالنا... وشهدنا تعرض بعض الجندرية إلى طلق ناري و تهديدهم بالموت من قبل الأهالي.

من رسالة من ريشارد سيبوط⁽²⁾ إلى والده بفرنسا بتاريخ 10 ماي 1938 من كتابه، قصر الأحمر أو حياة معمر في الجنوب التونسي، الجزء الثاني، طبعة 2002، ص 513.

(1) بقصد منطقة المكناسي بجهة سيدي بوزيد.

(2) معمر فرنسي عاش بالمكناسي بين 1931 و 1957.

الوثيقة الرابعة: القمع الاستعماري عقب أحداث 9 أبريل 1938

وفي اليوم الموالي [10 أبريل 1938] اعترضني في الطريق عدّة حواجز من الجنود والجندرية توقيف كل العربات وتفحصها... لقد أصبحت تونس مثل المدينة الممتنة... ويعني أن بورقيبة وكثير من المناضلين تم إيقافهم وزج بهم في السجن، كما وقعت إيقافات أخرى في كامل البلاد... أما الحزب فلم يعد موجودا، إذ تم تفتيش مقره بنهج التريبونال وغلقه... محمود الماطري، مذكرات مناضل (1926-1942)، سيراس للنشر، تونس، 1992، ص 153-155.

أدرس الوثائق معتمدا على الأسئلة التالية*:

1- حدّد الفكرة العامة للوثائق.

2- عرّف ما يلي: الديوان السياسي للحزب - علي البليوان.

3- مثل على سلّم زمني الأحداث التالية (الملحق عدد1) : خطاب فيانو (مارس 1937)، انعقاد المجلس الممي (مارس 1938)، أحداث 9 أبريل 1938.

4- أبرز تطوّر السياسة الاستعمارية الفرنسية تجاه التونسيين من 1937 إلى 1938 ومواقف الدستوريين منها.

5- حلّل النتائج المباشرة لأحداث 9 أبريل 1938 وانعكاساتها على الحركة الوطنية التونسية إلى نهاية الثلاثينات.

* تقع الاجابة على كل سؤال على حدة لا في شكل تحليل مسترسل.

مقياس إسناد الأعداد: السؤال الأول: نقطة واحدة / السؤال الثاني: نقطتان / السؤال الثالث: 3 نقاط /
السؤال الرابع: 4 نقاط / السؤال الخامس: 4 نقاط / المنهجية: 4 نقاط / اللغة: نقطتان.

الجغرافيا (20 نقطة)

يختار المترشح أحد الموضوعين التاليين

الموضوع الأول: مقال

أصبح الاتحاد الأوروبي قوة مالية عالمية بفضل سياسته النقدية المشتركة وهياكله المالية القوية إلا أن هذه القوة تبقى محدودة.

- وضّح مظاهر القوة المالية للاتحاد الأوروبي مبرراً حدودها.

- بين دور كل من السياسة النقدية المشتركة والهياكل المالية الأوروبية في بناء هذه القوة.

مقياس إسناد الأعداد: المعلومات: 14 نقطة / المنهجية: 04 نقاط / اللغة: نقطتان

الموضوع الثاني: دراسة إحصائيات

بلدان الجنوب

جدول عدد 1: بعض المؤشرات الاقتصادية لبلدان الشمال وبلدان الجنوب سنة 2023

المؤشرات المجال الجغرافي	إجمالي الناتج الداخلي الخام بالمليار دولار	الحصة من الصادرات العالمية للمنتج (%)	الحصة من الرصيد العالمي للاستثمارات الأجنبية الصادرة (%)	حصة منتجات تكنولوجيا المعلومات والاتصال من إجمالي أدفاق التصدير (%)
بلدان الشمال	63 488	56	78	21
بلدان الجنوب	41 535	44	22	9
العالم	105 023	100	100	15

المصدر: مؤتمر الأمم المتحدة للتجارة والتنمية والمنظمة العالمية للتجارة، 2024.

جدول عدد 2: بعض المؤشرات البشرية والاجتماعية لبلدان الشمال وبلدان الجنوب سنة 2023

المؤشرات المجال الجغرافي	عدد السكان بالمليون	نسبة النمو الطبيعي للسكان (%)	قيمة الناتج الداخلي الخام للفرد (دولار)	نسبة السكان الحضر (%)	مؤشر التنمية البشرية*	توزيع النشاطين حسب القطاعات الاقتصادية (%)
						الزراعة الصناعة الخدمات
بلدان الشمال	1 346	0.11	47 150	80	0.886	3 23 74
بلدان الجنوب	6 744	1.08	4 468	53	0.665	32 24 44
العالم	8 090	0.9	13 138	57	0.732	26 24 50

المصدر: مؤتمر الأمم المتحدة للتجارة والتنمية وإحصائيات البنك العالمي، 2024 ومصادر أخرى

2021

جدول عدد3: مؤشرات اقتصادية وبشرية لبعض بلدان الجنوب سنة 2023

المؤشرات	البلدان	المكسيك	الصين	النيجر
إجمالي الناتج الداخلي الخام بالمليار دولار		1 792	17 769	17
حصة القيمة المضافة الصناعيّة من الناتج الداخلي الخام (%)		32	38	20
حصة منتجات تكنولوجيا المعلومات والاتصال من مجمل صادرات السلع (%)		14	23	0.1
المساهمة في التجارة العالميّة	الحصة من الصادرات العالميّة للسلع (%)	2	14	0.01
	الرتبة	13	1	152
قيمة الاستثمار الأجنبي الوارد (مليار دولار)		36	163	1
نصيب الفرد من الناتج الداخلي الخام (دولار)		13 811	12 491	643
مؤشر التنمية البشريّة	القيمة	0.781	0.788	0.394
	الرتبة	77	75	190
نسبة وفيات الرضع (%)		11	1.2	60

المصدر: مؤتمر الأمم المتحدة للتجارة والتنمية وإحصائيات البنك العالمي، 2024 ومصادر أخرى

* 2022 ** 2021

أدرس الإحصائيات مستعينا بالأسئلة التالية:

- 1- حدّد الفكرة العاكة للإحصائيات
- 2- عرّف ما يلي:
 - الناتج الداخلي الخام
 - مؤشر التنمية البشريّة.
- 3- حوّل المعطيات الواردة في الجدول عدد 2، والمتعلّقة بتوزّع النّشيطين حسب القطاعات الاقتصادية ببلدان الشّمال وبلدان الجنوب والعالم، إلى رسم بياني بالأعمدة. (الملحق عدد2).
- 4- أبرز الخصائص الاقتصادية والبشريّة والاجتماعيّة المشتركة بين بلدان الجنوب.
- 5- بيّن تفاوت مستويات النمو الاقتصادي والتنمية البشريّة بين هذه البلدان.

*تفع الإجابة عن كلّ سؤال على حدة لا في شكل تحرير مستمر

مقياس إسناد الأعداد: السؤال الأول: 1ن / السؤال الثاني: 2ن / السؤال الثالث: 3ن / السؤال الرابع: 4ن / السؤال الخامس: 4ن / المنهجية: 4ن / اللغة: 2ن

إمضاء المراقبين

السلسلة:

عدد الترسيم:

الشعبة:

الاسم واللقب:

تاريخ الولادة ومكانها:

إمضاء المصححين

الملاحظة

العدد

الجغرافيا

التاريخ والجغرافيا - شعبية الآداب - دورة المبر الآلية 2025 - الملتقى عدد 2 - (يرجع مع ورقة تحرير الجغرافيا)

BACCALAURÉAT
LETTRES
TUNISIE

2024	الدورة الرئيسية	امتحان البكالوريا	الجمهورية التونسية
	الشعبة: الآداب	الاختبار: التاريخ والجغرافيا	وزارة التربية
	ضارب الاختبار: 3	الحصة: 3 س	

رقم التسجيل

على المترشح أن يستعمل في تحريره ورقتين منفصلتين إحداهما خاصة بالتاريخ والأخرى خاصة بالجغرافيا

التاريخ (20 نقطة)

يختار المترشح أحد الموضوعين التاليين

الموضوع الأول: مقال

- استغلت الحركة الصهيونية ظرفية ما بعد الحرب العالمية الثانية لإنشاء وطن قومي لليهود بفلسطين مما أدى إلى احتداد المقاومة الفلسطينية في مواجهة هذا الكيان الصهيوني.
- أبرز مظاهر استغلال الحركة الصهيونية لظرفية ما بعد الحرب العالمية الثانية لإنشاء وطن قومي لليهود بفلسطين.
 - بين تطور المقاومة الفلسطينية في مواجهة الكيان الصهيوني بين 1947 و 1982.

مقياس إستاد الأعداد: المعلومات: 14 نقطة / المبرجة: 4 نقاط / اللغة: نقطتان

الموضوع الثاني: دراسة نص

مؤتمر قصر هلال

اجتمعت شُعب الحزب الحرّ الدستوريّ في مؤتمر عامّ فوق العادة بمدينة قصر هلال يوم 2 مارس 1934 وذلك لتبادل الرأى في شأن خلاف خطير وقع داخله والبتّ فيه بكيفية حاسمة. إنّ المؤتمر العامّ الاعتياديّ للحزب الحرّ الدستوريّ الذي انعقد العامّ الفارط⁽¹⁾ قد أبدل برنامجه السياسيّ وقرّر العدول عن سياسة المشاركة. كما صرّح أنّ الغاية التي يسعى إليها هي تحرير الشعب التونسيّ. كما أنّ ذلك المؤتمر قرّر بالإجماع إدخال السادة الدكتور الماطري والحبيب بورقيبة والطاهر صفر في اللجنة التنفيذية الجديدة فكان ذلك التصويت تعبيراً عن ثقة في أولئك الوطنيين منذ أن كانوا يحزرون بجريدة صوت التونسيّ ثمّ بجريدة العمل التونسيّ⁽²⁾ ...

ولكن من سوء حظّ هؤلاء الرجال لم تكن إلاّ عشية أو ضحاها حتى أحسّوا بأنفسهم منفردين في داخل تلك اللجنة. ورأوا أغلبية [أعضائها] تتراجع عن البرنامج الأساسيّ الذي سطره المؤتمر الأخير وتسعى في الانفصال عنهم ... فوَقعت

ضجة و طلبت أغلبية الشَّعب من اللّجنة التنفيذية جمع مؤتمر استعجالي... وانعقد المؤتمر بمدينة قصر هلال... وعلى الساعة الرابعة فُتحت الجلسة الثَّانية للمؤتمر تحت رئاسة السيّد الحبيب بورقيبة... وفي ختامها... ارتجل خطابا : "سادتي الأفاضل ! ... اسمحوا لي بأن أعرّض إلى الخلاف الواقع بيننا وبين بقيّة أعضاء اللّجنة التنفيذية، وأمّا أسبابه الحقيقيّة فهي التّباین في الطريقة التي نريد السُّير عليها والطّريقة التي اتَّخذتها الجماعة القديمة... وهي طريقة التكتّم على الشَّعب... وبينما كانت الأمور على هذه الحالة دخلت الشَّيبة الواقفة أمامكم معترك السّياسة بعد أن قضت السنين العديدة في البلاد الأوروبيّة تزاول تعليمها... فأخذوا يُثيرون إحساس الأمة... لبيعوا فيها روح الحياة متخذين الصّراحة قاعدة لأعمالهم... وكانت حركتنا تتغلغل في وسط الأمة إلى أن وصلت إلى حلّ مشاكل سياسيّة خطيرة كانت اللّجنة التنفيذية عاجزة عن حلّها وهي تنخر عظام الشَّعب منذ سنوات ولا أدلّ على ذلك من موقفها إزاء حركة التّجنيس... ولا من مسألة الاستعمار و الأزمة الاقتصاديّة "

فما كاد ينتهي السيّد الحبيب بورقيبة من خطابه حتّى ضجّت القاعة بتصفيق الاستحسان... [وقرّر] المؤتمر المجتمع... حلّ اللّجنة التنفيذية القديمة... وشرّع في انتخاب الدّيوان السياسي... فأسفرت النّتيجة على ما يلي : محمود الماطري رئيسا والحبيب بورقيبة كاتباً عاماً .

سعيد أبو بكر*، مؤتمر البعث ، قصر هلال 2 مارس 1934، نشر الحزب الاشتراكي الدستوري، تونس 1967، ص 13-54.

* سعيد أبو بكر، (1899-1948)، شاعر تونسيّ و مناضل من الحزب الدستوري الجديد.

(1) المؤتمر العامّ الاعتيادي للحزب : المقصود به مؤتمر نهج الجبل المنعقد يومي 12 و 13 ماي 1933

(2) جريدة العمل التونسيّ L'Action Tunisienne صدر عددها الأوّل سنة 1932.

أدرس النّصّ معتمدا على الأسئلة التّالية*:

- 1- حدّد الفكرة العامّة للنّصّ
- 2- عرّف :
- محمود الماطري .
- اللّجنة التنفيذية للحزب
- 3- مثل الأحداث التّالية على سلّم زمنيّ (الملحق عدد 01): مؤتمر نهج الجبل / صدور العدد الأوّل لجريدة " العمل التونسيّ" / مؤتمر قصر هلال.
- 4- وضّح الطّروف المساعدة على انتعاشة العمل الوطنيّ بتونس في بداية الثلاثينات وأبرز مظاهر هذه الانتعاشة.
- 5- حلّل أسباب انعقاد مؤتمر قصر هلال ونتائجه المباشرة على الحزب الحرّ الدستوريّ التونسيّ إلى حدود 1934.

*تقع الإجابة عن كلّ سؤال على حدة لا في شكل تحليل مستمر.

مقياس إسناد الأعداد: السؤال الأوّل: نقطة/السؤال الثّاني: نقطتان/السؤال الثّالث: 3 نقاط السؤال الرابع: 5 نقاط /
السؤال الخامس: 3 نقاط/ المنهجية: 4 نقاط / اللّغة: نقطتان

الجغرافيا (20 نقطة)

يختار المترشح أحد الموضوعين التاليين:

الموضوع الأول: مقال

- رغم تراجع وزنه في الصناعة الأمريكية، يحافظ إقليم الشمال الشرقي على نفوذه التقريري بفضل دور الميغالوبوليس.
- وضح مظاهر تراجع الوزن الصناعي للشمال الشرقي الأمريكي وأبرز عوامل هذا التراجع.
 - بين دور الميغالوبوليس في الحفاظ على النفوذ التقريري لهذا الإقليم وطنيا وعالميا.

مقياس إسناد الأعداد: المعلومات: 14 نقطة / المهجئة: 4 نقاط / اللغة: نقطتان.

الموضوع الثاني: إنجاز خريطة

- 1 - مثل على الخريطة (الملحق عدد 2) ما يلي:
- تركيبة بلدان الشمال.
 - تباين مستويات القوة الاقتصادية والنفوذ لبلدان الشمال الواردة أسماؤها على الخريطة.
- 2 - أبرز السمات البشرية - الاجتماعية المشتركة بين مجموعات بلدان الشمال. (03 نقاط)
- 3 - حلل التفاوت في القوة الاقتصادية وفي النفوذ بين هذه المجموعات. (03 نقاط)
- اللغة: نقطتان

BACCALAURÉAT
LETTRES
TUNISIE

إمضاء المراقبين

السلسلة :

عدد الترسيم :

الشعبة :

الاسم واللقب :

تاريخ الولادة ومكانها :

إمضاء المصححين

الملاحظات

العدد

إمضاء المصححين	الملاحظات	العدد
.....		
.....		



BACCALAUREAT
LETTRES
TUNISIENNE

التاريخ والتفكير الفيا - شعبوية الآداب - الدورة الرئيسية 2024 - الملحق عدد 01 - (يرجع مع ورقة التصحيح)

إمضاء المراقبين

الشعبة: عدد الترسيم: السلسلة:

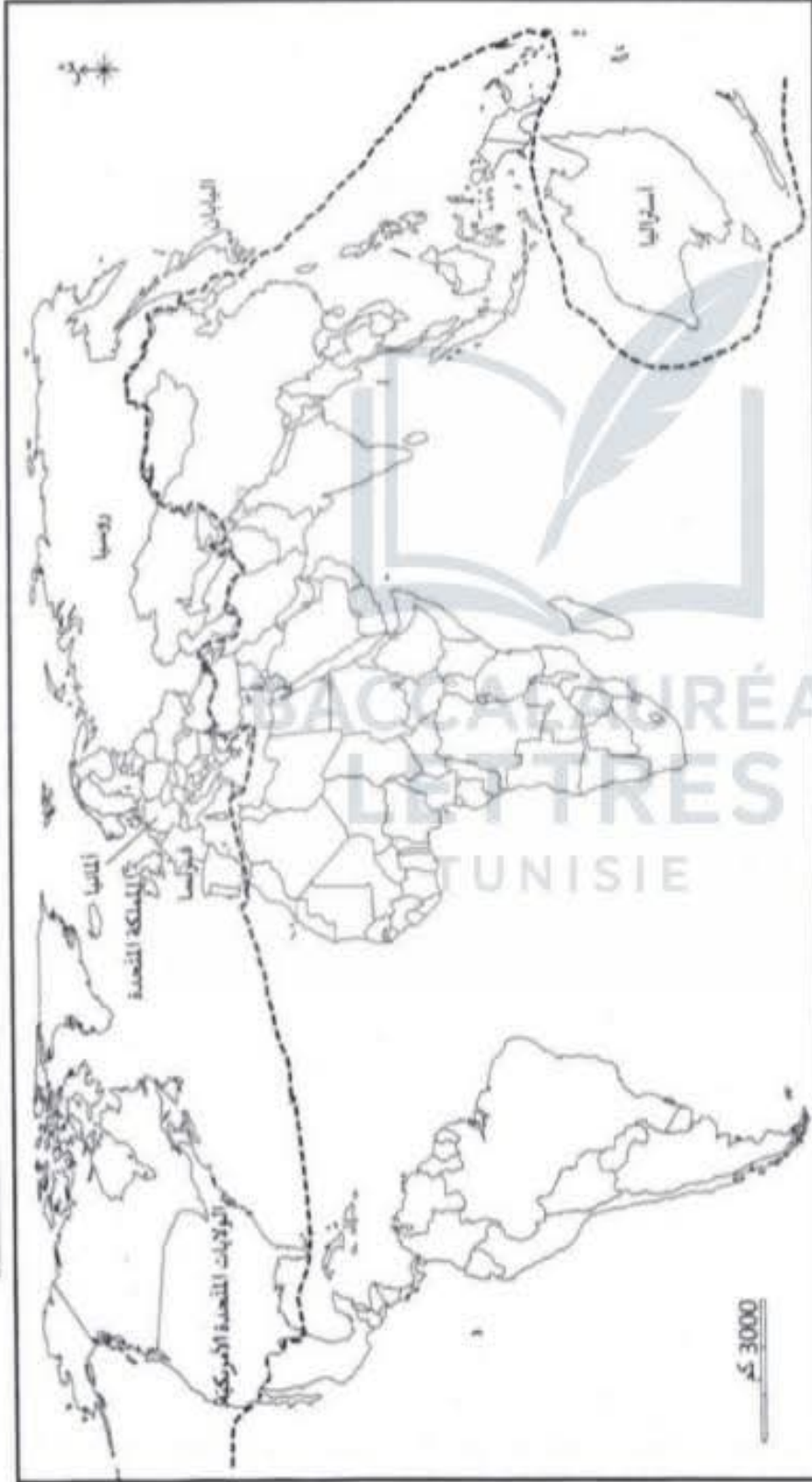
الاسم واللقب:

تاريخ الولادة ومكانها:

إمضاء المصححين

الملاحظات

العدد



المفتاح:

التاريخ والجغرافيا - شعبة الآداب - الدورة الرئيسية 2024 - الملحق عدد 02 - (يرجع مع ورقة التصحيح)

2024	دورة المراقبة	امتحان البكالوريا	الجمهورية التونسية وزارة التربية
الشعبة : الآداب		الاختبار: التاريخ والجغرافيا	
ضارب الاختبار : 3		الحصة: 3 س	

رقم التسجيل

على المترشح أن يستعمل في تحريره ورقتين منفصلتين إحداهما خاصة بالتاريخ والأخرى خاصة بالجغرافيا

التاريخ (20 نقطة)

يختار المترشح أحد الموضوعين التاليين

الموضوع الأول: مقال

- شهدت تونس بين 1952 و 1959 مسيرة نحو الاستقلال وإرساء لنظام جمهوري وتؤنسة لدواليب الدولة .
- وضّح أطوار المسيرة نحو الاستقلال بتونس بين 1952 و 1956.
 - أبرز مظاهر إرساء النظام الجمهوري وتؤنسة دواليب الدولة إلى حدود 1959.

مقياس إستاد الأعداد: المعلومات : 14 نقطة / المنهجية : 4 نقاط / اللغة : نقطتان

الموضوع الثاني: دراسة وثائق

نهاية الحرب الباردة

الوثيقة 1: تبرير بريجنيف للغزو السوفياتي لأفغانستان

لقد تحرك الاتحاد السوفياتي [ديسمبر 1979] وفق معاهدة الصداقة السوفياتية-الأفغانية . فقد كانت مساعدتنا للدفاع عن أفغانستان ضد التدخل الخارجي من القوى المعادية للثورة* استجابة حينية لطلبات الحكومة الأفغانية . ففي الحقيقة يعلم الأمريكيون وآخرون...ممن قادوا هذا التدخل أنه مثل تهديدا خطيرا على الثورة الأفغانية وعلى أمن حدودنا الجنوبية.

وفي النهاية يُدرك البيت الأبيض أيضا أن الاتحاد السوفياتي سيسحب قواته العسكرية من أفغانستان حالما تنتفي الأسباب التي أدت إلى حضورنا بهذا البلد وحالما تُقدّر الحكومة الأفغانية أن هذا الحضور لم يعد ضروريا .

من خطاب بريجنيف بتاريخ 22 فيفري 1980 ، ورد بكتاب التاريخ للأقسام النهائية ، نشر ناتان ، ص 199.

* الثورة: يُقصد بها الثورة التي أطاحت بالنظام الملكي بأفغانستان من قبل الشيوعيين سنة 1978.

الوثيقة 2 : العلاقة بين الاتحاد السوفياتي والولايات المتحدة الأمريكية خلال الثمانينات

في 23 مارس 1983 فاجأ الرئيس ريفن العالم عبر دعوته العلماء الأمريكيين إلى تطوير نظام دفاعي يجعل من الأسلحة النووية غير فعالة...وكان المشروع ... يسعى مبادرة الدفاع الاستراتيجي والتي أصبحت تسعى بعد ذلك مباشرة

باسم "حرب النجوم"... وقد أوضحت... أنه في حال بدأت الولايات المتحدة بمبادرة الدفاع الاستراتيجي ، فإن السوفيات سيطلقون بالتأكيد برامج لمواجهةها... وهو ما من شأنه أن يعجل في إطلاق حقبة جديدة وأكثر خطورة من سباق التسلح النووي...

كما رأيت التغييرات التاريخية التي نتجت عن الاتحاد السوفياتي . وكان أبرز دليل على ذلك اجتماع قمة ريكيافيك [بايسلندا] . فعلى مدى يومين في 11 و 12 أكتوبر 1986 ، جلس الرئيسان ريغن... و غورباتشوف ... وتوصلوا إلى اتفاقات تاريخية بشأن تخفيض الأسلحة النووية... وكان الاجتماع الأكثر التصاقا بالذاكرة الذي حضرته... ببودايبست [في المجر] في أوت 1991... لتقييم الأحداث الجارية في روسيا وفي دول أوروبا الشرقية التي نالت حريتها أخيرا .
وليام بيري * ، رحلتي على شفا الهاوية النووية . عالم المعرفة . عدد 468 ، جانفي 2019 ، ص 124 - 135

* وليام بيري : سياسي أمريكي شغل منصب وزير دفاع الولايات المتحدة الأمريكية بين 1994 - 1997 .

الوثيقة 3 : سقوط جدار برلين يوم 09 نوفمبر 1989



المصدر: الموقع الإلكتروني لصحيفة نيويورك تايمز، 29 أوت 2019 .

الوثيقة 4 : استقالة ميخائيل غورباتشوف من رئاسة الاتحاد السوفياتي في 25 ديسمبر 1991
... بتوجيه خطابي الأخير هذا بصفتي رئيسا للاتحاد السوفياتي ، فإنني ... أعرض عليكم تقييمي للمسار الذي اتبعناه منذ عام 1985 ... لقد قُدر لي أن أجد نفسي رئيسا للدولة بعد أن اتضح بصورة تامة أنه ثمة خطأ ما في البلاد ؛ فقد توفرت لدينا ثروة ضخمة من الأرض ... و غيرها من الموارد ... غير أن مستوى المعيشة كان أدنى مما نشهده في الدول المتقدمة... لقد كان المجتمع يعاني الاختناق في قبضة النظام البيروقراطي المتسلط وقد أوشتك على الانهيار ...

ومازلتُ أعتقد حتى اليوم أنّ المبادرة بالإصلاحات [البريسترويكا و الغلاسنوست] التي بدأت سنة 1985 كانت هي الخطوة الصحيحة تاريخيًا : فقد حققنا تقدّمًا ضخماً على طريق الإصلاح الديمقراطي... و استحداث اقتصاد السوق . لقد انتهت الحرب الباردة و أوقف سباق التسلّح ... و انفتحنا على العالم ورفضنا التدخّل في شؤون الدّول الأخرى... كما اكتسبت شعوبنا حقّ تقرير مصيرها...

أعلن استقالتي من مناصبي ... و يحدوني الأمل في الوقت نفسه ... فنحن ورثة حضارة عظيمة .

روسيا الجديدة، مذكرات ميخائيل غورباتشوف، الغيبكان للنشر، الرياض، 2017 من 30 – 34 .

أدرس الوثائق معتمدا على الأسئلة التالية*:

1- حدّد الفكرة العامة للوثائق.

2- عرّف ما يلي :

- الحرب الباردة .

- ميخائيل غورباتشوف .

3- مثل الأحداث التالية على سلّم زمنيّ (الملحق عدد 01): الغزو السوفياتيّ لأفغانستان / رئاسة غورباتشوف للاتحاد السوفياتيّ / سقوط جدار برلين / انهيار الاتحاد السوفياتيّ .

4- وضّح مظاهر عودة التوتّر ثم الانفراج في العلاقة بين الاتحاد السوفياتيّ و الولايات المتّحدة الأمريكيّة من 1979 إلى 1989 .

5- أبرز تطوّر الأوضاع بالاتحاد السوفياتيّ خلال فترة حكم غورباتشوف و حلّل انعكاسات ذلك على كلّ من الكتلة الاشتراكيّة و الحرب الباردة .

*تقع الإجابة عن كلّ سؤال على حدة لا تُرسل تحليل ومسترسل.

مقياس إسناد الأعداد: السؤال الأوّل: نقطة / السؤال الثاني: نقطتان / السؤال الثالث: 3 نقاط / السؤال الرابع: 4 نقاط /
السؤال الخامس: 4 نقاط / المنهجية: 4 نقاط / اللغة: نقطتان

الجغرافيا (20 نقطة)

يختار المترشح أحد الموضوعين التاليين:

الموضوع الأول: مقال

تستقطب بلدان الجنوب أدفقا مالية متنوعة.

- عُدّ الأدفقا المالية الواردة على بلدان الجنوب ووضّح خصائصها.
- حلّ العوامل المساعدة على استقطاب بلدان الجنوب لهذه الأدفقا.

مقياس إسناد الأعداد: المعلومات: 14 نقطة / المنهجية: 4 نقاط / اللغة: نقطتان.

الموضوع الثاني: دراسة إحصائيات

الفلاحة بالولايات المتحدة الأمريكية وبالبرازيل

الوثيقة عدد 1: بعض المؤشرات حول الوزن الاقتصادي والاجتماعي للفلاحة بكل من الولايات المتحدة الأمريكية والبرازيل سنة 2022

المؤشر	الوحدة	الولايات المتحدة الأمريكية	البرازيل
مساهمة الفلاحة في الناتج الداخلي الخام	%	0.8	6.3
مساهمة الفلاحة في التشغيل	%	1.6	9.6
الميزان التجاري الغذائي	مليار دولار	-38.4	117.9
عدد السكان الذين يعانون نقصا في التغذية	مليون	00	10

المصدر: منظمة الأغذية والزراعة والمنظمة العالمية للتجارة 2023

2021

الوثيقة عدد 2: بنية صادرات السلع بكل من الولايات المتحدة الأمريكية والبرازيل سنة 2022



الوثيقة عدد 3 : المكانة العالمية للولايات المتحدة الأمريكية والبرازيل في بعض المنتجات الفلاحية سنة 2021

البرازيل				الولايات المتحدة الأمريكية				المؤشر
التصدير		الإنتاج		التصدير		الإنتاج		
الرتبة العالمية	الحصة من الصادرات العالمية (%)	الرتبة العالمية	الحصة من الإنتاج العالمي (%)	الرتبة العالمية	الحصة من الصادرات العالمية (%)	الرتبة العالمية	الحصة من الإنتاج العالمي (%)	
3	10	3	7	1	43	1	32	الذرة
1	53	1	36	2	33	2	32.5	الصّوجا
6	3.5	4	7	8	3	7	4	القوارص
1	22	3	11	2	20	2	17	لحوم الدواجن

المصدر: منظمة الأغذية والزراعة 2023

أدرس الإحصائيات مُعتَمداً على الأسئلة التالية :

- 1 - حدّد موضوع الإحصائيات.
 - 2 - عرف ما يلي:
 - الناتج الداخلي الخام.
 - منظمة الأغذية والزراعة.
 - 3 - حوّل معطيات الوثيقة عدد 3 المتعلقة بالحصة من الإنتاج الفلاحي العالمي لكن من الولايات المتحدة الأمريكية والبرازيل إلى رسم بياني بالأعمدة. (الملحق عدد 2).
 - 4 - وضّح تباين الوزن الاقتصادي والاجتماعي للفلاحة بين الولايات المتحدة الأمريكية والبرازيل.
 - 5 - أبرز السمات المشتركة للمكانة العالمية للفلاحة بكلا البلدين.
- تقع الإجابة عن كل سؤال على حدة، لاي شكل تحريري مسترسل.

مقياس إسناد الأعداد: السؤال الأول: نقطة واحدة / السؤال الثاني: نقطتان / السؤال الثالث: 3 نقاط / السؤال الرابع: 4 نقاط / السؤال الخامس: 4 نقاط /
المنهجية: 4 نقاط / اللغة: نقطتان

إمضاء المراقبين

الشعبة: عدد الترسيم: السلسلة:

الاسم واللقب:


تاريخ الولادة ومكانها:

إمضاء المصححين

الملاحظات

العدد

إمضاء المصححين	الملاحظات	العدد



التاريخ والجغرافيا - شعبة الآداب - دورة المراقبة 2024 - الملحق عدد 01 - (يرجع مع ورقة التحرير)

إمضاء المراقبين

الشعبة: عدد الترسيم: السلسلة:

الاسم واللقب:

تاريخ الولادة ومكانها:

إمضاء المصححين

الملاحظات


العدد



التاريخ والجغرافيا - شعبة الآداب - دورة المراجعة 2024 - الملحق عدد 02 - (يرجع مع ورقة التصحيح)

الدورة الرئيسية 2023	امتحان البكالوريا	الجمهورية التونسية وزارة التربية
الشعبة: الآداب	الاختبار: التاريخ والجغرافيا	
ضارب الاختبار: 3	الحصة: 3 س	

رقم التسجيل



على المترشح أن يستعمل في تحريره ورقتين منفصلتين إحداهما خاصة بالتاريخ والأخرى خاصة بالجغرافيا

التاريخ (20 نقطة)

يختار المترشح أحد الموضوعين التاليين

الموضوع الأول: دراسة نص.

الحزب الحر الدستوري التونسي

قُبيل نهاية الحرب وفي الوقت الذي نشر فيه ولسن نقاطه الأربع عشرة، شرع رفاق باش حانبة و الثعالبي بتونس في النشاط بعد أن عزز صفوفهم شبان جدد ... وبعد انتصارهم، أعلن الحلفاء مساندهم لمبدأ حق الشعوب في تقرير مصيرها ... [ولكن] عندما طالب التونسيون بهذا الحق ... رفضه كل من كيمينسو و لويد جورج ... ولم يكن قادة الحركة الوطنية المصرية أوفر حظاً حيث تم اعتقال سعد زغلول [من قبل الإنجليز] و من ناحيتها قامت الحكومة الفرنسية بإيقاف عبد العزيز الثعالبي [بعد إصداره كتاب "تونس الشبيدة"] بتهمة التآمر على أمن الدولة وإحالة أمام القضاء العسكري ... و بعد أشهر قليلة تمت تبرئته و غادر السجن سنة 1919 ...

إن [الحزب الحر الدستوري التونسي] جعل نشاطه في إطار نظام الحماية . وأخذ يعين الاعتبار ضمان مساندة الباي ... وطلب بعودة العمل بدستور 1861 ... كما اعتمد تحرير العرائض الممضاة من آلاف الأشخاص في كامل البلاد ... وتكثيف الوفود إلى قصر الباي ... ونظم الحزب يوم 5 أفريل 1922 مسيرة ضخمة هزمت البلاد لمساندة الباي في مواجهة السلطات الفرنسية عندما هدد بالتخلي عن العرش.

وفي جويلية 1922 أعلن المقيم العام لوسيان سان عن جملة من الإصلاحات سببت انقسامات في صفوف الوطنيين ... لقد كانت هناك اجتماعات خاصة و خطب ، إضافة إلى بعث شعب داخل البلاد، فأصبح الحزب يضم ممثلين في عدّة جهات. لكن لا أحد فكّر في بلورة استراتيجية لتحرير البلاد من الهيمنة الفرنسية ... وهذا ما ولد حالة من الملل والفتور في صفوف الشعب ...

لقد مثل عبد العزيز الثعالبي شخصية مهمة في الحركة الوطنية ... لكن إحساسه بالإحباط جعله يرحل إلى المشرق ويفضل المنفى ... وبعد ذلك بدأ الحزب يتجه نحو التفهقر تحت وقع الانقسامات الداخلية والعجز.

الحبيب بورقيبة ، ورد ب ، تاريخ الحركة الوطنية التونسية ، وثائق دار العمل ، ص 125-128 .

أدرس النص معتمدا على الأسئلة التالية* :

1 - حدّد موضوع النص.

2-عرف :

- تونس الشهيدة

- الحبيب بورقيبة

3- أبرز ظروف نشأة الحزب الحرّ الدستوريّ التونسيّ.

4- بيّن نشاط الحزب و ردود فعل السّلط الاستعماريّة الفرنسيّة تجاهه خلال العشرينات.

* نفع الإجابة عن كل سؤال على حدة لاني شكل تحرير مسترسل.

مقياس إستاد الأعداد: السؤال الأول: نقطتان / السؤال الثاني: 3 نقاط / السؤال الثالث: 4 نقاط / السؤال الرابع: 5 نقاط / المنهجية: 4 نقاط / اللغة: نقطتان

الموضوع الثاني: دراسة وثائق

الثورة البلشفيّة

الوثيقة 1 : الوضع في روسيا القيصرية أثناء الحرب العالميّة الأولى

عجلت الحرب العالميّة بنهاية لا مفرّ منها [للنظام القيصري]، فسلطته المتردّدة وجدت نفسها دون مستوى المسؤوليّة المنوطة بها. لقد أدت الأزمة الغذائيّة فجأة إلى حالة من الغليان الشديّد، واتّضح أنّ انتشار الجوع في بلد زراعيّ بامتياز ومصدر كبير للقمح في الطّروف العاديّة، هو نتيجة لقصور في التسيير الإداري والارتجال والفوضى، إضافة إلى غياب الكفاءة وهو ما سبّب شللاً في توزيع المون المتاحة. وقد عانت بتروغراد بصفة خاصّة من ذلك، وهو ما فجّر انتفاضة شعبيّة كبيرة .

جريدة "L'illustration" ، 24 مارس 1917، ورد بكتاب "ملفات التاريخ" للمسألة الأولى، إسيرا للنشر، باريس 1982 ، ص 98


الوثيقة 2 : ثورة فيفري 1917

... تبين أنّ ثورة فيفري اندلعت بفضل القواعد الشعبيّة، فقد قدّر عدد المضربين في ذلك اليوم [23 فيفري] بحوالي تسعين ألفاً ... وفي اليوم الموالي، لم تهدأ التّحركات بل تضاعفت إذ أضرب حوالي نصف عمّال المصانع في بتروغراد يوم 24 فيفري... وأستبعد شعار المطالبة بالخبز وغيّض بشعارات أخرى "ليسقط الاستبداد"، "لتسقط الحرب". تلقى الجنود تعليمات صارمة بإطلاق النّار [على المتظاهرين] ، فقد كانت أوامر النظام القيصري: "أطلقوا النّار على العدوّ!" ، فصاح العمّال "لا تطلقوا النّار على إخوانكم و أخواتكم"... "انضمّوا إلينا".

وهكذا تمّ الإعداد ليوم الحسم ، يوم 27 فيفري ... فمنذ الصّباح تمزّدت كتائب جنود الاحتياط الواحدة تلو الأخرى ...

ليون تروتسكي، تاريخ الثورة الروسية ، ورد بكتاب التاريخ والجغرافيا، بلان للنشر، باريس ، 1994 ، ص 16

الوثيقة 3 : اقتحام البلاشفة والجنود "لقصر الشتاء" مقر الحكومة المؤقتة يوم 25 أكتوبر 1917



المصدر: موقع Global Look Press

الوثيقة 4 : بيان اللجنة الثورية العسكرية يوم 25 أكتوبر 1917

" إلى مواطني روسيا !

أسقطت الحكومة المؤقتة ، و انتقلت سلطة الدولة إلى يد هيئة سوفيئات نواب العمال والجنود في بتروغراد. أي إلى اللجنة الثورية العسكرية التي ترأس بروليتاريا بتروغراد و حاميتها . إن القضية التي ناضل الشعب في سبيلها : عرض صلح ديمقراطي على الفور . إلغاء ملكية الملاكين العقاريين للأرض . رقابة العمال على الإنتاج و إنشاء حكومة سوفيائية ...

عاشت ثورة العمال والجنود والفلاحين "

اللجنة الثورية لدى سوفيئات نواب العمال و الجنود في بتروغراد .

أورده لبيب عبد الساتر . أحداث القرن العشرين . دار المشرق ، بيروت ، 1987 . ص 47 .


BACCALAURÉAT
LETTRES
TUNISIE

أدرس الوثائق معتمدا على الأسئلة التالية * :

- 1- حدّد موضوع الوثائق .
- 2- عرّف :
 - الحكومة المؤقتة .
 - السوفيئات .
- 3- أبرز أسباب ثورة 1917 في روسيا .
- 4- وضّح مراحل الثورة وبيّن القرارات التي اتخذها البلاشفة عند توليهم السلطة إلى حدود سنة 1918 .

* نفع الإجابة عن كل سؤال على حدة لا في شكل تحرير مستمر.

مقياس إستاد الأعداد: السؤال الأول: نقطتان/ السؤال الثاني: 3 نقاط/ السؤال الثالث: 4 نقاط/ السؤال الرابع: 5 نقاط/ المنهجية: 4 نقاط / اللغة: نقطتان



الجغرافيا (20 نقطة)

يختار المترشح أحد الموضوعين التاليين

الموضوع الأول: مقال

- تنامت الأدفاق التجارية والمالية في العالم بفضل دور الشركات عبر القطرية و دور المنظمات والمؤسسات العالمية. إلا أن استفادة الجنوب من تنامي هذه الأدفاق تبقى محدودة.
- أبرز دور الشركات عبر القطرية ودور المنظمات والمؤسسات العالمية في تنامي الأدفاق التجارية والمالية في العالم.
 - بين محدودية استفادة بلدان الجنوب من تنامي هذه الأدفاق.

مقياس إسناد الأعداد: المعلومات: 14 نقطة / المنهجية: 4 نقاط / اللغة: نقطتان

الموضوع الثاني: مقال

- حقق البرازيل قفزته الاقتصادية بتبنيه لنماذج تنمية متنوعة وبانفتاحه على موارد مالية أجنبية.
- عرف هذه النماذج التنموية مبرزا دواعي تبنيها.
 - صنف مصادر الموارد المالية الأجنبية المعتمدة في البرازيل مبينا انعكاساتها الاقتصادية والاجتماعية.

مقياس إسناد الأعداد: المعلومات: 14 نقطة / المنهجية: 4 نقاط / اللغة: نقطتان

دورة المراقبة 2023	امتحان البكالوريا	الجمهورية التونسية
الشعبة : الآداب	الاختبار: التاريخ والجغرافيا	وزارة التربية
ضارب الاختبار: 3	الحصّة: 3 س	

رقم التسجيل



على المترشح أن يستعمل في تحريره ورقتين منفصلتين إحداهما خاصّة بالتاريخ والأخرى خاصّة بالجغرافيا

التاريخ (20 نقطة)

يختار المترشح أحد الموضوعين التاليين

الموضوع الأول: مقال

- انتهجت السّلط الاستعماريّة الفرنسيّة بتونس بين 1934 و1938 سياسة راوحت بين التصلّب والمرونة ممّا أفرز ردود فعل مختلفة تُجاهها من قبل الحزب الحرّ الدستوريّ التونسيّ الجديد.
- أبرز مظاهر التصلّب والمرونة في السياسة الاستعماريّة الفرنسيّة خلال هذه الفترة.
 - بين ردود فعل الحزب الحرّ الدستوريّ التونسيّ الجديد تُجاه هذه السياسة.

مقياس إسناد الأعداد: المعلومات: 14 نقطة / المنهجية: 4 نقاط / اللّغة: نقطتان

BACCALAURÉAT
LETTRES

الموضوع الثاني: مقال

تعتبر أزمة الثلاثينات الاقتصاديّة حدثا بارزا في فترة ما بين الحربين.

- أبرز أسباب هذه الأزمة.
- بين نتائجها الاجتماعيّة والسياسيّة.

مقياس إسناد الأعداد: المعلومات: 14 ن / المنهجية: 4 ن / اللّغة: نقطتان



الجغرافيا (20 نقطة)

يختار المترشح أحد الموضوعين التاليين

الموضوع الأول: دراسة وثائق

التفاوت في التقدم

الوثيقة عدد1: مؤشرات اقتصادية حول العالمين النامي والمتقدم سنة 2021

تجارة القمح (مليار دولار)		الحصة من قيمة الصادرات العالمية للسلع (%)	الحصة من إجمالي الناتج الداخلي العام العالمي (%)	المؤشر
الواردات	الصادرات			المجموعة
2,7	48,8	54	59,5	العالم المتقدم
60,5	6,1	46	40,5	العالم النامي

المصدر: إحصائيات مؤتمر الأمم المتحدة للتجارة والتنمية سنة 2021 ومصادر أخرى

الوثيقة عدد2: مؤشرات اجتماعية حول العالمين النامي والمتقدم سنة 2021

توزيع النشيطين حسب القطاعات الاقتصادية (%)			مؤشر التنمية البشرية	الحصة من العدد الجمالي لسكان العالم (%)	المؤشر
الخدمات	الصناعة	الزراعة			المجموعة
67,6	22,7	9,7	0,865	16,5	العالم المتقدم
53,7	16,5	29,8	0,685	83,5	العالم النامي

المصدر: إحصائيات البنك العالمي سنة 2021 ومصادر أخرى

الوثيقة عدد3:الشركات عبر القطرية واقتصاديات البلدان النامية.

"يعكس النمو غير المتكافئ (بين بلدان العالم) ، قبضة الشركات الكبرى العابرة للأوطان على الاقتصاد العالمي. حيث يتجاوز حجم مبيعاتها غالبا الناتج الداخلي الخام لبعض البلدان، أو حتى قارئات بأكملها. وتنشر الشركات عبر القطرية نشاطها على نطاق عالمي مع الاحتفاظ بجذور قوية في بلدانها الأصلية لأنها تعتمد بصورة عاقمة على الدولة لحماية مصالحها (تدعم واشنطن "إكسون موبيل" أو "بوينغ" كما أن "توتال" تحميها باريس)..."

إن اقتصاديات بلدان الجنوب مرتبطة بشدة بالسوق العالمية [وتوجهات وبرامج صندوق النقد الدولي والبنك العالمي] ويرتبن نموها، في ظل النموذج السائد حاليا، بصادراتها إلى حد كبير. والحال أن أسعار موادها الأولية ومنافذ بيع منتجاتها المصنعة لا تزال تُحدّد أساسا من قبل البلدان الأكثر تصنيعا."

المصدر: داميان ميه وأريك توسان، 65 سؤالا وجوابا بشأن الديون وصندوق النقد الدولي والبنك العالمي، فيفري 2022، ص 26-27..

أدرس الوثائق معتمدا الأسئلة التالية*:

1/ حدّد الفكرة العامة للوثائق

2/ عرّف ما يلي :

- مؤشر التنمية البشرية

- الشركات عبر القطرية

3/ حول نسب توزّع النشيطين بكلّ من العالمين النامي و المتقدم (الوثيقة عدد2) إلى رسمين بيانيين دائريين (ملحق عدد1).

4/ أبرز مجالات التفاوت بين العالمين النامي و المتقدم.

5/ بين أدوات الهيمنة الاقتصادية للعالم المتقدم على العالم النامي وتبعاتها.

*تقع الإجابة عن كلّ سؤال على حدة، لاي شكل تحرير مستمر.

مقياس إستاد الأعداد: السؤال 1: نقطة / السؤال 2: نقطتان / السؤال 3: 3 نقاط / السؤال 4: 4 نقاط / السؤال 5: 4 نقاط / المنهجية: 4 نقاط / اللغة: نقطتان

الموضوع الثاني: إنجاز خريطة

الأسئلة*:

1/ مثل على الخريطة المصاحبة (الملحق عدد 2) ما يلي:

- أهم الحواضر الأمريكية.
- الأقاليم الصناعيّة الكبرى بالولايات المتحدة الأمريكية.
- اتجاهات إعادة توطن الصناعات القديمة.
- أهم أديان الهجرة الداخليّة.

2/ أبرز دور الحواضر في تنظيم المجال الأمريكي.

3/ فسّر التحوّلات المجاليّة للسكان بالولايات المتحدة الأمريكية.

* تقع الإجابة عن كل سؤال على حدة. لافي شكل تحرير فسترسيل

مقياس إسناد الأعداد: التمثيل على الخريطة: 12 نقطة/السؤال الثاني: 3 نقاط/السؤال الثالث: 3 نقاط/ اللّغة: نقطتان

BACCALAURÉAT
LETTRES
TUNISIE

إمضاء المراقبين

السلسلة :

عدد الترسيم :

الشعبة :

الاسم واللقب :

تاريخ الولادة ومكانها :

إمضاء المصححين

الملاحظة

العدد

التاريخ والتعريف العليا - تنمية الآداب - دورة المر القبة 2023 - الملحق عدد 1 - (يرجع مع ورقة التعريف)

إمضاء المراقبين

السلسلة:

عدد الترسيم:

الشعبة:

الاسم واللقب:

تاريخ الولادة ومكانها:

إمضاء المصححين

الملاحظة

العدد



المفتاح

الأقاليم الصناعية

اتجاهات إعادة توطين الصناعات القديمة

الأدفاق الرئيسية للبحيرة الداخلة

التاريخ والجغرافيا - شعبة الآداب - دورة المراجعة 2023 - الملحق عدد 2 - (يرجع مع ورقة التحرير)

الطورة الرئيسية	امتحان البكالوريا طورة 2022	الجمهورية التونسية وزارة التربية
الشعبة: الآداب	الاختبار: التاريخ والجغرافيا	
ضارب الاختبار: 3	الحصّة: 3 س	

رقم التسجيل



على المترشح أن يستعمل في تحريره ورقتين منفصلتين إحداهما خاصة بالتاريخ والأخرى خاصة بالجغرافيا

التاريخ (20 نقطة)

يختار المترشح أحد الموضوعين التاليين

الموضوع الأول: مقال

- شهدت الحركة الوطنية التونسية إثر الحرب العالمية الثانية تضجعا واضحا توج سنة 1955 بالحصول على الحكم الذاتي الذي تباينت حوله مواقف الوطنيين.
- أبرز مظاهر هذا التضج على مستوى المطالب وأشكال النضال.
 - بين تباين مواقف الوطنيين التونسيين من اتفاقيات الحكم الذاتي و تداعياته على الحركة الوطنية إلى نهاية 1955.

مقياس إسناد الأعداد: المعلومات: 14 نقطة / المنهجية: 4 نقاط / اللغة: نقطتان

BACCALAURÉAT
LETTRES
TUNISIE

الموضوع الثاني: مقال

- مثلت الأسباب الاقتصادية والعسكرية دافعا رئيسيا للتصادم بين الحلفين المتنازعين خلال الحرب العالمية الأولى التي خلقت انعكاسات وخيمة على دول الحلف الثلاثي.
- أبرز الأسباب الاقتصادية والعسكرية للتصادم بين الحلفين.
 - بين تأثيرات هذه الحرب على دول الحلف الثلاثي.

مقياس إسناد الأعداد: المعلومات: 14 نقطة / المنهجية: 4 نقاط / اللغة: نقطتان

الجغرافيا (20 نقطة)

يختار المترشح أحد الموضوعين التاليين

الموضوع الأول: دراسة وثائق

مكانة الشمال في الأديان التجارية العالمية

الوثيقة عدد1: حصة الشمال وحصة الجنوب من المبادلات التجارية العالمية سنة 2020

الخدمات		السلع		المؤشر	المجموعة
الحصة من الواردات العالمية (%)	الحصة من الصادرات العالمية (%)	الحصة من الواردات العالمية (%)	الحصة من الصادرات العالمية (%)		
65	72	58	54		الشمال
35	28	42	46		الجنوب

المصدر: مؤتمر الأمم المتحدة للتجارة والتنمية، 2021.

الوثيقة عدد2: حصة بلدان الناتو من الصادرات العالمية لبعض السلع والخدمات سنة 2020

المؤشر	الحصة من صادرات المنتجات الغذائية (%)	الحصة من صادرات المنتجات المعملية (%)	الحصة من صادرات الخدمات المالية (%)	الحصة من صادرات خدمات النقل (%)	القوى التجارية
	9.2	7.6	26.7	6.8	الولايات المتحدة الأمريكية
	36.3	36.1	32.7	41.6	الاتحاد الأوروبي*
	-	4.6	2.9	2.5	اليابان

* باعتبار المبادلات بين أقطار الاتحاد الأوروبي

المصدر: المنظمة العالمية للتجارة، 2021.


الوثيقة عدد3: منظمة التجارة العالمية والشركات عبر القارية

... يمثل إنشاء منظمة التجارة العالمية تحولا جوهريا في طبيعة النظام التجاري الدولي، إذ تساوى في إطارها حقوق الدول الأعضاء كافة، بغض النظر عن حجم الدولة وقدرتها الاقتصادية أو إسهامها في التجارة العالمية. ... وتعمل المنظمة مع صندوق النقد الدولي والبنك العالمي على إقرار ... السياسات الاقتصادية على الصعيد الدولي، وتحديد برامج الإصلاح الاقتصادي في الدول النامية.

... إلا أن الواقع العملي يؤكد أن المنظمة لم تكن سوى أداة أخرى من أدوات سيطرة الأقوياء ... فثمة من يرى أن آثار تطبيق اتفاقيات منظمة التجارة العالمية تعود في المقام الأول إلى تمكين الشركات عبر القارية من السيطرة على الساحة التجارية الدولية لمصلحتها ومصلحة دولها على حساب البلدان النامية. وقد تبين أن الشركات عبر القارية هي اللاعب الأساسي في الاقتصاد العالمي في ظل منظمة التجارة العالمية، ولذا تُعدُّ هذه الشركات الفاعل الرئيسي في التجارة الدولية.

المصدر: جمال مفتاح العماري، المجلة الإفريقية للعلوم السياسية، جوان 2019 (بتصرف).

O.M.C
المنظمة العالمية للتجارة
الانتصار للأفضل
ET QUE LE MEILLEUR GAGNE!



المصدر: الرنثام بيار سامسون، موقع "صحافة الكلمة"، 2017.

أدرس الوثائق معتمدا الأسئلة التالية*:

- 1- حدّد موضوع الوثائق.
- 2- عرف: الأذفاق - صندوق النقد الدولي.
- 3- حوّل المعطيات الواردة بالوثيقة عدد 2 المتعلقة بالحصّة من صادرات المنتجات المعملية والحصّة من صادرات الخدمات المالية إلى رسم بياني في شكل أعمدة (مستغرام) على الورقة المصاحبة (الملحق عدد 1).
- 4- أبرز مكانة بلدان الشمال في الأذفاق التجارة العالمية.
- 5- بيّن دور الشركات عبر القطرية والمنظمة العالمية للتجارة في تدعيم هذه المكانة.

* نفع الإجابة عن كل سؤال على حدة، لا في شكل تحرير مستوّل.

مقياس إسناد الأعداد: السؤال الأول: نقطة واحدة / السؤال الثاني: نقطتان / السؤال الثالث: 03 نقاط / السؤال الرابع: 04 نقاط /
السؤال الخامس: 04 نقاط / المبرجة: 04 نقاط / اللغة: نقطتان

الموضوع الثّاني: دراسة إحصائيات

القوة الإنتاجية البرازيلية

الوثيقة عدد 1: مؤشرات حول بعض المنتجات بالبرازيل

المنتج	الوحدة	السنة	حجم الإنتاج	الحصة من الإنتاج العالمي (%)	المرتبة العالمية
لحوم الأبقار	مليون طن	2020	10.1	14	2
قصب السكر	مليون طن	2020	757.1	35.7	1
قهوة	مليون طن	2020	3.7	34.6	1
فولاذ	مليون طن	2020	31	1.7	9
سيارات	مليون وحدة	2020	2	2.6	9
نפט	مليون طن	2020	159.2	3.8	8
بوكسيت*	مليون طن	2019	34	9.5	4
حديد	مليون طن	2019	405	16.5	2

* مادة أولية لصناعة الألمنيوم

المصدر: إحصائيات منظمة الأغذية والزراعة 2021 ومصادر أخرى.

الوثيقة عدد 2: معطيات حول البرازيل سنة 2020

المؤشر	الوحدة	القيمة
المساحة	مليون كم ²	8.5
نسبة المساحة الصالحة للزراعة من المساحة الإجمالية*	%	28.3
عدد السكان	مليون ساكن	212.5
الناتج الداخلي الخام للفرد	دولار	8229
نسبة التحضر	%	87
نسبة الفئة العمرية بين 15 و 64 سنة من مجموع السكان	%	70
نسبة صادرات صناعات التكنولوجيا العالية من مجموع الصادرات الصناعية	%	9.1
نسبة صادرات المواد الفلاحية من مجموع الصادرات	%	44.5

* سنة 2018

المصدر: إحصائيات البنك العالمي 2021 ومصادر أخرى.

أدرس الوثيقتين معتمدا الأسئلة التالية*:

- 1- حدّد موضوع الوثيقتين.
- 2- عرف: منظمة الأغذية والزراعة - البنك العالمي.
- 3- حول المعطيات المتعلقة بحصة البرازيل من الإنتاج العالمي لقصب السكر والقهوة ولحوم الأبقار الواردة في الوثيقة عدد 1 إلى رسم بياني في شكل أعمدة (هستغرام) على الورقة المصاحبة (الملحق عدد 1).
- 4- أبرز مظاهر القوة الإنتاجية البرازيلية.
- 5- بين دعائمها.

*تقع الإجابة عن كل سؤال على حدة، لا في شكل تحرير مستمر.

مقياس إسناد الأعداد: السؤال الأول: نقطة واحدة/ السؤال الثاني: نقطتان/ السؤال الثالث: 03 نقاط/ السؤال الرابع: 04 نقاط/ السؤال الخامس: 04 نقاط/ المنهجية: 04 نقاط/ اللغة: نقطتان

إمضاء المراقبين

السلسلة:

عدد الترسيم:

الشعبة:

الاسم واللقب:

تاريخ الولادة ومكانها:

إمضاء المصححين

الملاحظة


العدد

الخطوط العليا - شعبة الآداب - الدورة الرئيسية (2022) - الملحق عدد 1 - (تزوج مع ورقة التحرير)

BACCALAUREAT
LETTRES
TUNISIE

دورة المراقبة	امتحان البكالوريا دورة 2022	الجمهورية التونسية وزارة التربية
الشعبة: الآداب	الاختبار: التاريخ والجغرافيا	
ضارب الاختبار: 3	الحصة: 3 س	

رقم التسجيل



على المترشح أن يستعمل في تحريره ورقتين منفصلتين إحداهما خاصة بالتاريخ والأخرى خاصة بالجغرافيا

الجغرافيا (20 نقطة)

يختار المترشح أحد الموضوعين التاليين

الموضوع الأول: مقال

أبرز مزايا المجال بالاتحاد الأوروبي وبين مجهودات التحكم فيه.

مقياس إسناد الأعداد: المعلومات: 14 نقطة / المنهجية: 04 نقاط / اللغة: نقطتان

BACCALAURÉAT
LETTRES

الموضوع الثاني: مقال

- يتمتع الثالوث بقوة اقتصادية ونموذ عالي بفضل تظافر دعائم اقتصادية وبشرية متنوعة.
- أبرز مظاهر القوة الاقتصادية والنموذ العالي للثالوث.
 - بين الدعائم الاقتصادية والبشرية المضرة لذلك.

مقياس إسناد الأعداد: المعلومات: 14 نقطة / المنهجية: 04 نقاط / اللغة: نقطتان

البلاد التونسية أثناء الحرب العالمية الثانية

عندما اندلعت الحرب العالمية الثانية... فتحت صفحة جديدة في حياتي. وكان للحرب وقعها العميق على النفوس وعلى ظروف عيش السواد الأعظم من الناس، وعلى النشاط الاقتصادي والحياة الاجتماعية. لاسيما بعد أن صارت الساحة التونسية مسرحا للمعارك بداية من نوفمبر 1942، وبعد أن نزلت قوات "الحلفاء الغربيين" بالجزائر ونزلت القوات الألمانية بتونس...

وقد تزامنت هذه الظروف الاستثنائية مع نزوح عدد كبير من اللاجئين من العاصمة وجهات أخرى وقدمهم إلى ضاحية المرسى، وكان من بينهم شبّان في سنّي، تعرّفت عليهم ونشطت معهم في تنظيمات شتى كاللّهلال الأحمر... والكشافة و الشّبّان المسلمون والشّبيبة الدّستورية والشّعبة الدّستورية والجمعيات الرّياضية...

وكانت هذه الفترة حاسمة طرقت فيها باب الحياة العاقبة والنضال السياسي ومثّلت، خصوصا بداية من نوفمبر 1942، منعرجا في حياة جيل بأسره. فلقد عشنا المعارك العسكرية والقصف الجوّي وظروف الاحتلال العسكري الألماني ثمّ الأمريكي والبريطاني، واختلطنا بجنود من جنسيات مختلفة، أحيانا من سنّنا... كما عشنا انهيار السّلط الاستعمارية، وتجرّنا أحيانا على افتكالك النّفوذ منها وتكوين "سلطة موازية" وممارسة شؤون المواطنين دون الاسترخااص من أحد... وكان المنصف باي قد اعتلى العرش وزاد في "تخميرة" الشعب ممّا أدخل ارتباكا عميقا على نظام الحماية، والتحم الملك الجديد مع الجماهير... حتّى جاء اليوم المشؤوم في شهر ماي 1943... (قبيل عزله بيومين ونفيه إلى الجزائر) حين نقلوه قسرا من حطام الأنف و دخل ركبه المرسى مخفورا بكوكبة من الدراجات النارية...

لقد عاش الجيل السابق لجيلنا أحداث 9 أبريل 1938 والصّدمة التي أحدثتها في نفوس المناضلين الوطنيين، وما تبعها من شعور بالإحباط واليأس... ثمّ جاءت هزيمة فرنسا في جوان 1940 كالصّاعقة اهتزّ لها الجميع وتفشّعت السّحب وبزغت أنوار في الأفق البعيد... وبعدها جاء الاحتلال الألماني، ولم يدم أكثر من ستّة أشهر، إلاّ أنّه غيّر في أذهان جيلنا الصّورة التي كنّا نحملها عن السّلط الاستعمارية.

المصدر: أحمد المستيري*، شهادة للتاريخ، دار الجنوب، تونس 2011، ص 23-24.

*أحمد المستيري (1925 - 2021): مناضل زمن الاستعمار ومن بناه الدولة التونسية الحديثة، تقلّد عدّة مناصب عليا في الدولة

أدرس النّص معتمدا الأسئلة التّالية*:

- 1 - حدّد الفكرة العامّة للنّص.
- 2 - عرّف ما يلي : الحلفاء - المنصف باي.
- 3 - رتّب الأحداث التّالية على سلّم زمني : اندلاع الحرب العالميّة الثّانية (1939)/ دخول القوّات الألمانيّة للبلاد التّونسيّة (1942)/ عزل المنصف باي من منصبه (1943) / هزيمة فرنسا أثناء الحرب العالميّة الثّانية (1940). (ملحق عدد 1).
- 4 - أبرز التّأثيرات الاقتصاديّة والاجتماعيّة للحرب العالميّة الثّانية على البلاد التّونسيّة.
- 5 - بين ملامح الظّرفيّة السياسيّة الجديدة بالبلاد التّونسيّة أثناء الحرب العالميّة الثّانية و اشرح انعكاساتها على النّشاط الوطني.

* تقع الاجابة عن كلّ سؤال على حدة، لا في شكل تحرير مستمر.

مقياس إسناد الأعداد: السؤال 1: نقطة / السؤال 2: نقطتان / السؤال 3: 3 نقاط / السؤال 4: 4 نقاط / السؤال 5: 4 نقاط /
المتبجئة: 4 نقاط / اللغة: نقطتان



BACCALAURÉAT
LETTRES
TUNISIE

القضية الفلسطينية

الوثيقة عدد 1 : مقتطفات من بلاغ قيادة الثورة العربية بفلسطين في 11 سبتمبر 1936

"... تبين لمجلس الثورة العربية أن الحكومة البريطانية كانت وما زالت تتبع سياسة اللفّ و الدّوران إزاء الحقوق العربية ... و هي جادة في جعل [فلسطين] في أحوال سياسيّة و اقتصاديّة تكفل إنشاء وطن قومي يهودي على حساب المصالح و الحقوق العربية مُهْملة حتى ما أوجبه عليها "صكّ الانتداب" نفسه من التزامات دوليّة نحو العرب... ويظهر أن الحكومة البريطانية المستحذية للصهيونية* قد كانت و ما زالت تتجاهل ... النصوص الأساسيّة الخاصّة بالتزاماتها نحو العرب وبدلا من إقرارها الحقوق الوطنيّة في فلسطين... قد استعاضت عن ذلك ... بإدارة يهوديّة بريطانيّة... وجعلت همّها ... إرضاء اليهود... ففتحت لهم باب هجرة طاغية ... وذلك ما جعل الشعب العربي في فلسطين يُعلن إضرابه العام ويقوم مضطراّ بأعمال العنف لا ليهتدّد الحكومة البريطانيّة كما تزعم بل ليلفت نظرها ونظر العالم إلى أعظم مظلمة عُرفت في تاريخ البشر..."

المصدر: أوردته علي المعجوني: "جنود الاستعمار الصهيوني بفلسطين"، سراسر للنشر، 1990، ص 149 - 150.

*المستحذية للصهيونية: المستجيبة لمطالب الحركة الصهيونية

الوثيقة عدد 2 : المشاركة العربية في حرب 1948



عينة من الجيوش العربية المشاركة في حرب 1948 (صورة تذكارية لعناصر من الجيش العراقي بجانب المسجد الأقصى)



متطوّعون عرب في حرب 1948

المصدر: مركز المعلومات الوطني الفلسطيني وفا و صور حول حرب 1948.

الوثيقة عدد 3: مقتطفات من الميثاق الوطني الفلسطيني

المادة 19: " تقسيم فلسطين الذي جرى عام 1947 وقيام " إسرائيل " باطل من أساسه ، مهما طال عليه الزمن لمغيّره لإرادة الشعب الفلسطيني وحقّه الطّبيعي في وطنه ومناقضته للمبادئ التي نصّ عليها ميثاق الأمم المتّحدة و في مقدّماتها حقّ تقرير المصير . "

المادة 20: " يعتبر باطلا كلّ من تصرّح بلفور وصكّ الانتداب ، وما ترتّب عليهما ... "

المصدر: الميثاق الوطني الفلسطيني، جولية 1968، مركز المعلومات الوطني الفلسطيني وفا

أدرس الوثائق معتمدا الأسئلة التالية * :

- 1 - حدّد الفكرة العامّة للوثائق.
- 2 - عرف ما يلي: الحركة الصّهيونيّة - بلفور.
- 3 - رتّب الأحداث التالية على سلّم زمني: بداية الانتداب البريطاني في فلسطين (1920) / قرار التّقسيم (1948) / وعد بلفور (1917) / بداية الثورة الفلسطينيّة الكبرى (1936) . (ملحق عدد 1).
- 4 - أبرز الدور البريطاني في تجسيد المشروع الصّهيوني بفلسطين وردود فعل الفلسطينيّين تجاهه.
- 5 - بيّن المواقف العربيّة والفلسطينيّة من قرار التّقسيم.

* تقع الإجابة عن كلّ سؤال على حدة، لا في شكل تحرير مستمر.

BACCALAUREAT
LETTRES

مقياس إسناد الأعداد: السؤال 1: نقطة / السؤال 2: نقطتان / السؤال 3: 3 نقاط / السؤال 4: 4 نقاط / السؤال 5: 4 نقاط /
المنهجية: 4 نقاط / اللغة: نقطتان

إمضاء المراقبين

السلسلة:

عدد الترسيم:

الشعبة:


الاسم واللقب:

تاريخ الولادة ومكانها:

إمضاء المصححين

الملاحظة

العدد



BACCALAURÉAT
LETTRES
TUNISIE

التاريخ والخطوط الفنية - شعبة الآداب - دورة المراجعة (2022) - الملحق عدد 1 - (يرجع مع ورقة التحرير)

